



## Plan de Aprendizaje Remoto

### Ficha de trabajo n°11

#### Matemática

|                                 |  |                   |           |               |            |
|---------------------------------|--|-------------------|-----------|---------------|------------|
| <b>NOMBRE ALUMNO/A</b>          |  |                   |           | <b>FECHA</b>  |            |
| <b>MODALIDAD</b>                | Sincrónico/Asincrónico   | <b>EVALUACIÓN</b> | Formativa | <b>TIEMPO</b> | 90 minutos |
| <b>CONTENIDO</b>                | Unidad y decena.   |                   |           | <b>CURSO</b>  | 1 A - B    |
| <b>OA 8</b>                     | Determinar las unidades y decenas en números del 0 al 20, agrupando de a 10, de manera concreta, pictórica y simbólica.  |                   |           |               |            |
| <b>Habilidades</b>              | Argumentar y comunicar.  |                   |           |               |            |
| <b>Instrucciones Generales.</b> | <p>1.- Trabaja en un ambiente sin distracciones.</p> <p>2.- Contar con el apoyo de un adulto para leer las instrucciones y guiar el trabajo.</p> <p>3.- Siempre motive al estudiante, recuerde que las palabras de amor nos hacen realizar un mejor trabajo.</p> <p>4.- Y a usted mamá, papá, abuelos, hermanas, lo están haciendo muy bien, su apoyo es fundamental en el proceso de aprendizaje.</p> |                   |           |               |            |

¡Hola niños y niñas!, hoy estudiaremos la unidad y decena. Cuando hablamos de unidad, nos referimos a un solo objeto y cuando hablamos de decena, nos referimos a 10 objetos. Ejemplo.



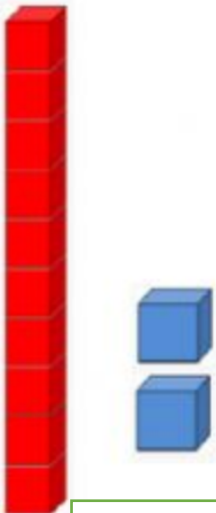
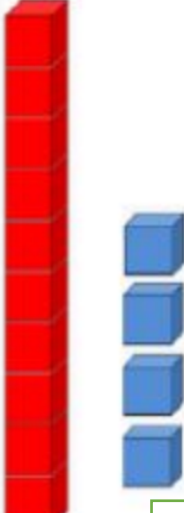


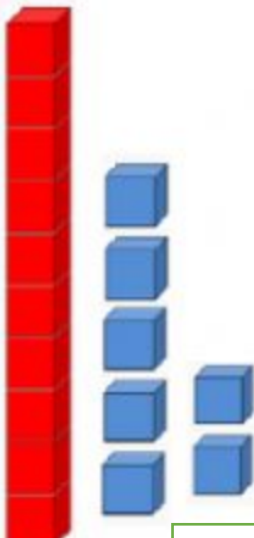

Esta barra  
representa una  
decena, es decir  
10 unidades.



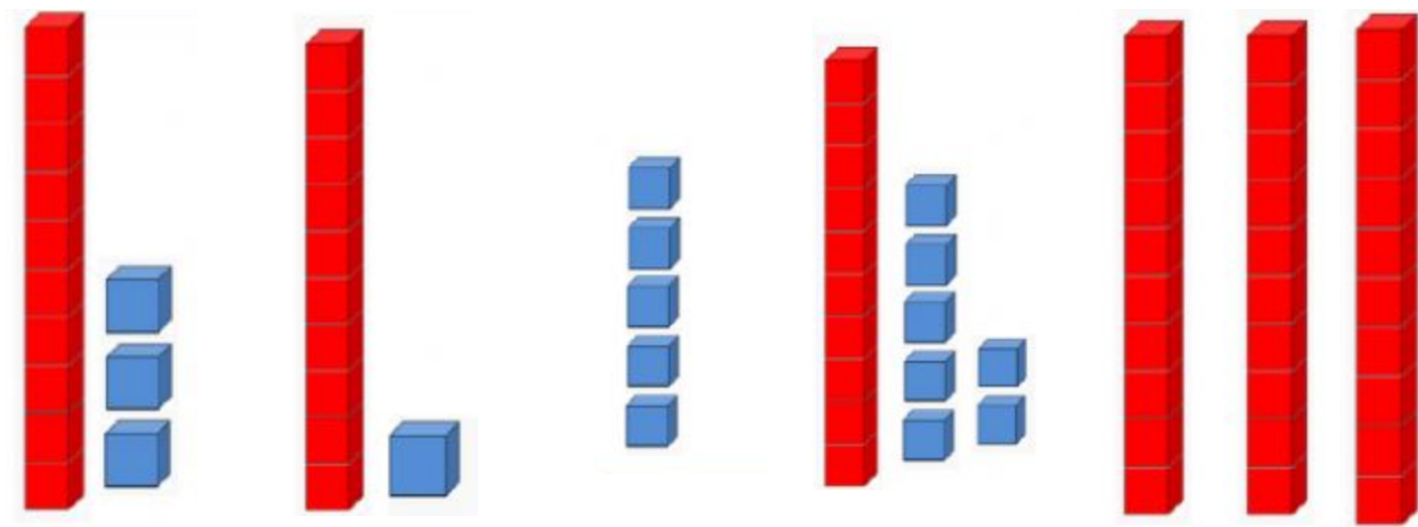
Esta barra  
representa una  
unidad.

## Actividades:

1.-Escribe el número que se representa con las barras.

|   |   |   |
|---|---|---|
| <br><input type="text"/>  | <br><input type="text"/>  | <br><input type="text"/>  |
| <br><input type="text"/> | <br><input type="text"/> | <br><input type="text"/> |

2.- Une con una línea el número representado.



30

13

11

5

17

3.- Completa con el número correspondiente.  
Quiate por el ejemplo.

$$12 = \boxed{1} D \boxed{2} U$$

$$18 = \boxed{\phantom{00}} D \boxed{\phantom{00}} U$$

$$25 = \boxed{\phantom{00}} D \boxed{\phantom{00}} U$$

$$30 = \boxed{\phantom{00}} D \boxed{\phantom{00}} U$$



4.- Dibuja las barras según los números dados.

15

20

28