



PLAN DE APRENDIZAJE REMOTO

HISTORIA

Presentación del material:

El siguiente material es una guía de contenidos sobre las formas del relieve de Chile, que corresponde a la primera unidad de Historia. Luego de la lectura encontrarás preguntas las cuales debes responder. Es muy importante conocer las formas de relieve para así comprender qué caracteriza a las zonas naturales de Chile.

Guía de contenidos “Relieves del Chile”


Nombre: _____ Curso: _____


Objetivo:


Localizar e identificar las cuatro macro-formas del relieve de Chile


Macro formas del Relieve en Chile

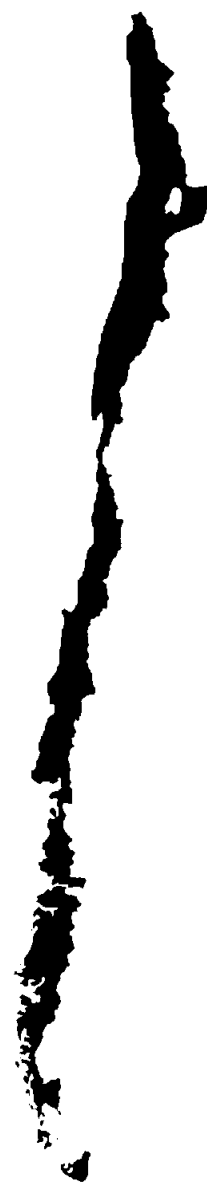
En Chile reconocemos cuatro macroformas, cuyos rasgos generales son los siguientes:

 **Cordillera de los Andes:** es una larga cadena de montañas que se extiende al este del territorio desde el límite norte hasta la Tierra del Fuego. Disminuye su altitud hacia el sur y tras sumergirse en el mar de Drake, reaparece bajo los hielos de la Antártica con el nombre de Antartandes. Es la mayor de nuestras macroformas por su ancho, su altitud y su continuidad a lo largo del territorio. Es probablemente la forma del relieve que más identifica a los chilenos y chilenas por ese notable aspecto de muralla de rocas y piedras que se corona con nieves eternas, que contiene la riqueza mineral y de la cual fluye el agua que permite la vida.

 **Depresión intermedia:** es un sector deprimido entre la cordillera de los Andes y la cordillera de la Costa. Se extiende desde el límite norte hasta el golfo de Ancud, aunque no de forma continua. En general se presenta como un relieve plano –si bien en algunos sectores presenta ondulaciones– que va descendiendo de norte a sur (desde unos 1.500 m de altitud en la región de Arica y Parinacota a unos 150 m en la región de Los Lagos). Es el relieve donde históricamente se ha localizado la mayor parte del hábitat y actividad agrícola de los chilenos.

 **Cordillera de la Costa:** se ubica en el sector occidental del territorio y se presenta como una cadena de cerros de diferentes alturas que, en general, van descendiendo hacia el sur. Se reconoce su presencia desde unos 20 kilómetros al sur de Arica hasta la península de Taitao en la región de Aisén.

 **Planicies litorales:** constituyen un sector bajo, relativamente plano, que se encuentra al oeste de la cordillera de la Costa cuando esta enfrenta el océano. Las planicies litorales o costeras se presentan desde Arica hasta Chiloé con anchos muy desiguales en las distintas regiones.





Luego de la Lectura responde las siguientes preguntas.

1.- Menciona las 4 macroformas del relieve chileno.

2.- Enumera de mayor altitud a menor altitud, las cuatro macro-formas del relieve chileno.

3.- Menciona y describe la macro-forma que tiene mayor continuidad en nuestro territorio.

4.- ¿En qué macro-forma del relieve chileno se asientan ciudades como Valparaíso, Talcahuano, y Puerto Saavedra?, Caracterice dicha macro-forma.

5.- ¿La macro-forma de la cordillera de la costa está presente en nuestra región?, caracterice como se representa dicha macro-forma a nivel nacional.

6.- ¿En qué macro-forma del relieve se encuentran Temuco y Labranza?, caracteriza ese relieve.



Dibuja y pinta un perfil topográfico que agrupe a todas las macro-formas de Chile.