



## Guía de trabajo historia, geografía y ciencias sociales.


NOMBRE:..... FECHA:..... Curso:.....

Objetivo: Reconocer los puntos cardinales; Ubicar personas, lugares y elementos en una cuadrícula, utilizando líneas de referencia.

Recordemos:

**Existen puntos espaciales, los cuales nos permiten ubicarnos en un espacio geográfico, por esto el ser humano creó puntos cardinales (Norte, Sur, Este y Oeste). Estos nos indican diferentes zonas; como por ejemplo, desde donde sale el Sol o en qué dirección corre el viento; por eso se han creado coordenadas o lugares de referencias.**

1.- Escribe el nombre de los puntos cardinales en la Rosa de los vientos.



2.- Observa y luego marca con una X la opción correcta.



Al sur del niño se encuentra:	PATO	POLLITOS
-------------------------------	------	----------

Al norte de la vaca está el:	CERDO	GATO
------------------------------	-------	------

Al oeste del niño esta:	CONEJO	VACA
-------------------------	--------	------

Al este del pato está el:	CABALLO	CERDO
---------------------------	---------	-------

3.- Completa las siguientes oraciones, utilizando como referencia los puntos cardinales de la Rosa de los vientos.

A) Al norte de Chile se ubica: \_\_\_\_\_


al este queda: \_\_\_\_\_ y al oeste está: \_\_\_\_\_.

B) Al norte de mi casa hay: \_\_\_\_\_

al sur: \_\_\_\_\_, al este: \_\_\_\_\_ y al oeste esta \_\_\_\_\_.

C) El Sol sale por: \_\_\_\_\_ y se esconde por: \_\_\_\_\_.

3.- Observa los elementos de la cuadrícula y luego responde las preguntas.

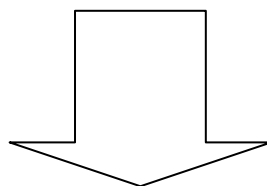


- A. ¿En qué punto cardinal se encuentra la casa? \_\_\_\_\_.
- B. ¿En qué punto cardinal se encuentra la flor? \_\_\_\_\_.
- C. ¿En qué punto cardinal se encuentra la Luna? \_\_\_\_\_.

Completa las siguientes oraciones con los términos del recuadro.

puntos cardinales	oeste	norte	este	distintas
-------------------	-------	-------	------	-----------

- a) La brújula siempre indica el .....
- b) En Chile por las mañanas el sol sale por el .....
- c) El sol se oculta por el .....
- d) Los puntos cardinales nos muestran ..... direcciones.
- e) Los ..... son muy importantes para representar los planos.



Trabajar casa el texto escolar Historia, Geografía y Ciencias Sociales páginas: 18, 19, 20 21.